

**ESTADO DE SANTA CATARINA
MUNICÍPIO DE ERMO**

PROVA CONCURSO PÚBLICO Nº 1/2011

CARGO: MÉDICO

DIA: 13 de março de 2011 - HORÁRIO: 08h00min às 12h00min

O tempo total concedido para a resolução da prova é de 4 (quatro) horas, incluindo o tempo destinado ao preenchimento do cartão de respostas.

I N S T R U Ç Õ E S

Confira o número de questões da prova: 10 (dez) questões de Português, 10 (dez) questões de conhecimentos gerais 05 (cinco) questões de Raciocínio Lógico e 15 (quinze) questões de conhecimentos específicos.

A interpretação das questões é parte integrante da prova, não sendo permitidas perguntas aos fiscais. Não destaque folhas da prova.

No cartão de respostas, preencha seu nome, seu número de inscrição. Examine se há marcações indevidas no campo destinado às suas respostas. Se houver, reclame imediatamente.

Verifique se faltam folhas na prova, se a sequência de questões, no total de 40 (quarenta), está correta e se há imperfeições gráficas que possam causar dúvidas. Comunique imediatamente ao fiscal qualquer irregularidade.

Para cada questão são apresentadas 5 (cinco) alternativas diferentes de respostas (A, B, C, D e E). Apenas uma delas constitui a resposta correta em relação ao enunciado da questão.

Utilize somente caneta esferográfica com tinta azul ou preta.

Questões em branco ou que contenham mais de uma resposta ou emendas ou rasuras não serão consideradas.

Durante a realização das provas é vedada a consulta a livros, revistas, folhetos ou anotações, bem como o uso de máquinas de calcular ou qualquer equipamento elétrico ou eletrônico, inclusive telefones celulares, sob pena de eliminação do candidato do concurso.

Ao encerrar a prova, entregue ao fiscal o cartão de respostas devidamente assinado e o caderno da prova.

ASSINATURA DO (A) CANDIDATO (A)

INSCRIÇÃO

NOME DO (A) CANDIDATO (A)

LOCAL E DATA

As questões de 01 a 03 têm como base o texto 1 -“Um país sem defesa”.

TEXTO 1 – “UM PAÍS SEM DEFESA”

1 Com um sistema ineficiente de prevenção e alerta e Defesas Civis lentas ou
2 inexistentes nos municípios, o Brasil fica à mercê dos eventos climáticos.

3 A Europa havia acabado de entrar no verão de 1940 quando a Força Aérea
4 Alemã iniciou uma gigantesca campanha de bombardeios a alvos civis britânicos,
5 durante a II Guerra Mundial. As autoridades inglesas padronizaram então um
6 conjunto de procedimentos para diminuir o número de mortes. O plano, que ficou
7 conhecido como Defesa Passiva atuava basicamente em três frentes: prevenção,
8 alarme e socorro. Nascia assim o conceito moderno de Defesa Civil, até hoje usado
9 como modelo para prevenção de catástrofes por vários governos em todo o mundo.

10 Infelizmente, setenta anos depois, o Sistema Nacional de Defesa Civil
11 (Sindec) brasileiro ainda não consegue cumprir com eficiência a primeira e a
12 segunda etapa, ou seja, prevenção e alarme. Sem mapas detalhados das áreas de
13 risco, sem esclarecimento e treinamento da população e sem sistema eficiente de
14 alertas preventivos, a Secretaria Nacional de Defesa Civil (Sedec) se limita a entrar
15 em campo depois da tragédia. Chega apenas para socorrer as milhares de vítimas
16 que escaparam com vida e enterrar as centenas de corpos dos que não tiveram a
17 mesma sorte.

18 (...)

19 Em alguns estados, como São Paulo e Santa Catarina, por exemplo, um
20 sistema próprio de alarme costuma alcançar alguma eficiência. Nessas estruturas,
21 informações coletadas por diferentes equipamentos são recebidas por um centro de
22 emergência estadual e analisadas por técnicos. Quando eles concluem que há risco,
23 começam a disparar telefonemas e SMS para colegas em órgãos operacionais
24 previamente estabelecidos nos municípios, entre eles a Defesa Civil.

25 Essas equipes, treinadas para receber o alerta e saber como agir, deslocam-se
26 para as áreas de risco e implementam medidas de segurança previamente
27 estabelecidas. Assim, na maioria dos casos, conseguem se antecipar a inundações e
28 deslizamentos de encostas. Nem sempre com total eficiência, mas com mais
29 agilidade do que as autoridades fluminenses.

30 (...)

31 **Mudança de paradigma** – Para que não se repitam todos os anos, após as
32 chuvas de verão, as imagens de cidades destruídas com centenas de caixões
33 enfileirados, o Sistema de Defesa Civil do Brasil precisa se libertar do vício das
34 medidas paliativas e emergenciais. Como bem observou Debarati Guha-Sapir,
35 consultora da Organização das Nações Unidas (ONU) no Centro de Pesquisas sobre
36 a Epidemiologia de Desastres (Cred), sediado em Bruxelas, na Bélgica, é um
37 absurdo que o Brasil, com "apenas um perigo natural para administrar", não consiga
38 fazê-lo. "Este foi o 37º deslizamento de terra no Brasil em menos de dez anos",
39 disse Debarati ao jornal francês *Le Monde*. "Imagine se o país também enfrentasse
40 terremotos, vulcões ou furacões. O Brasil não é Bangladesh, não tem desculpas."

41 Se não bastasse o modelo de sucesso britânico durante a Segunda Guerra
42 Mundial, estão aí para ensinar o caminho os exemplos de eficiência de países como
43 Austrália, Tailândia e Indonésia, que lidam com enchentes e tsunamis muito mais
44 devastadores que as enchentes brasileiras.

45 Voltando à época da concepção da Defesa Passiva, se a Inglaterra tivesse
46 estruturado o seu programa nos moldes da Defesa Civil Brasileira, suas principais

| | |
|----|--|
| 47 | idades jamais teriam sido equipadas com um milhão de abrigos antiaéreos logo nos |
| 48 | primeiros meses da Segunda Guerra Mundial. A população não teria aprendido a se |
| 49 | refugiar ao toque dos alarmes, porque não existiria a rede de radares e de |
| 50 | observadores voluntários ao longo da costa para disparar as sirenes assim que os |
| 51 | bombardeiros alemães cruzassem os céus sobre o Canal da Mancha. |
| 52 | Conseqüentemente, as bombas alemãs teriam matado um número infinitamente |
| 53 | maior que os 23.002 civis mortos durante os cinco meses de bombardeios. |
| | (DIAS, Marina; CASTRO, Gabriel. <i>Um país sem defesa</i> . In: VEJA On line. 21/01/2011. Disponível em: http://veja.abril.com.br/noticia/brasil/um-pais-sem-defesa . Acesso em 01.fev.2011) |

1 - O texto 1(um) aborda sobre catástrofes e ação da Defesa Civil. No excerto compreendido entre as linhas 19 e 29 é feita referência à ação (ou falta dela) em regiões específicas, as quais estão demarcadas textualmente nestas linhas. Quais são elas?

- a) Santa Catarina, São Paulo e Rio de Janeiro;
- b) Santa Catarina e São Paulo;
- c) Santa Catarina, São Paulo e Bruxelas;
- d) Municípios brasileiros que tem Defesa Civil, sem destacar região específica;
- e) Austrália, Tailândia e Indonésia.

2 - O termo “Assim” presente na linha 27, pode ser substituído, sem prejuízo de sentido no texto, por:

- a) “Entretanto”;
- b) “Talvez”;
- c) “Outrora”;
- d) “Deste modo”;
- e) “Desde que”.

3 - Na linha 37, a expressão “apenas um perigo natural para administrar”, faz referência direta a que outra(s) sentença(s) contida no texto 1(um)?

- a) “terremotos, vulcões e furacões” (linha 40);
- b) “medidas paliativas e emergenciais” (linha 34);
- c) “deslizamento de terra” (linha 38) e “enchentes brasileiras”(linha 44);
- d) “enchentes e tsunamis” (linha 43);
- e) “chuvas de verão” (linha 32) e “centenas de caixões enfileirados” (linha 32-33).

As questões 04 e 05 têm como base o texto 2(dois) - “Natal feliz: evite problemas nas compras *on line*”.

| | |
|----|---|
| 1 | O comércio eletrônico cresce a passos largos entre os brasileiros. Neste ano, o |
| 2 | número de compradores virtuais subiu 30% no país. A tendência deve se repetir no |
| 3 | período que antecede as festas de fim de ano, segundo estimativas da consultoria e- |
| 4 | bit. É fácil entender: quem compra pela internet evita filas e muitas vezes encontra |
| 5 | preço mais baixo. Mas os especialistas alertam: sem os devidos cuidados, uma |
| 6 | transação on-line pode se converter em dor de cabeça para o consumidor, que |
| 7 | poderá engolir sapo ao procurar trocar seu produto. Para evitar problemas, desconfie |
| 8 | de descontos gigantescos, pois podem ser produtos contrabandeados e sem garantia. |
| 9 | Assim, você pode estar comprando gato por lebre. Prefira lojas tradicionais: as |
| 10 | melhores são aquelas já testadas por você ou por conhecidos. Atenção para os e- |
| 11 | mails com falsas promoções, os quais são comuns nessa época do ano. Ignore-os. |
| 12 | Eles carregam arquivos com vírus ou links que, quando acessados, baixam invasores |
| 13 | nas máquinas. Evite que a vaca vá para o brejo e estrague seu fim de ano! (Adaptado de “Natal feliz: evite problemas nas compras on-line. VEJA on-line,10/12/2009. |

4 - O texto 2(dois) apresenta algumas expressões que não podem ser consideradas em seu sentido denotativo. Assinale a alternativa que apresenta APENAS expressões contidas no texto e que estejam empregadas em sentido figurado e em linguagem coloquial:

- a) “produtos contrabandeados” (linha 8) e “falsas promoções” (linha 11);
- b) “transação on line” (linha 6) e “arquivos com vírus ou links” (linha 12);
- c) “produtos contrabandeados” (linha 8) e “ invasores nas máquinas” (linhas 12-13);
- d) “engolir sapo” (linha 7); “comprando gato por lebre”(linha 9) e “vaca vá para o brejo” (linha 13);
- e) “engolir sapo” (linha 7); “descontos gigantescos” (linha 8) e “lojas tradicionais” (linha 9).

5 - O texto 2(dois) aborda sobre perigos da compra on –line e a partir da linha 5, aponta algumas sugestões, tais como:

- I) “Desconfie de descontos gigantescos” (linhas 7-8);
- II) “Prefira lojas tradicionais (linha 9);
- III) “Ignore-os” (linha 11);
- IV) Evite que a vaca vá para o brejo (linha 13).

Assinale a alternativa abaixo QUE CONTÉM o modo verbal que está presente nos verbos sublinhados nas sentenças acima:

- a) Modo Indicativo;
- b) Modo Subjuntivo;
- c) Modo Indicativo nas sentenças I, III e IV e Modo Subjuntivo na sentença II;
- d) Nenhuma das alternativas anteriores pois os verbos estão no Tempo Futuro;
- e) Modo Imperativo.

6 - Abaixo há algumas afirmações sobre Concordância Verbal e Nominal. Preencha as lacunas com V (verdadeiro) ou F (falso) e após, ASSINALE A ALTERNATIVA QUE, RESPECTIVAMENTE, APRESENTA A SEQUÊNCIA CORRETA:

() I - Dá-se em gramática o nome de concordância à circunstância de um adjetivo variar em gênero e número de acordo com o substantivo a que se refere (concordância nominal) e à de um verbo variar em número e pessoa de acordo com o seu sujeito (concordância verbal);

() II - A concordância verbal diz respeito ao verbo em relação ao sujeito, o primeiro deve concordar em número (singular ou plural) e pessoa (1ª, 2ª, 3ª) com o segundo;

() III - Locução verbal é uma expressão com dois ou mais verbos, sendo que, é necessário que ambos estejam flexionados e que nenhum deles seja impessoal;

() IV- Adjetivos, artigos e substantivos são classes invariáveis em relação a número e gênero;

() V- Advérbios pertencem ao grupo de palavras variáveis que, a modo do verbo, variam em gênero, número e grau;

() VI - A concordância nominal diz respeito ao substantivo e seus termos referentes: adjetivo, numeral, pronome, artigo. Essa concordância é feita em gênero (masculino ou feminino) e pessoa;

() VII - A frase “Houveram opiniões contrárias ao plano econômico” está correta pois o verbo haver flexiona de acordo com o plural;

() VIII - A frase “Deverá haver opiniões contrárias” está flexionada corretamente, pois o verbo haver permanece no singular.

a) V – V – F – F – F – V – F – V;

- b) F – V – V – F – V – V – V – F;
- c) V – V – F – F – F – F – F – V;
- d) V – F – V – F – V – F – V – F;
- e) V – V – F – F – F – V – V – F.

07 - A ocorrência do sinal gráfico de crase aponta uma relação sintática. Tomando por base esta informação, assinale a ÚNICA ALTERNATIVA CORRETA que demonstra a CRASE em construção adequada ao uso da língua padrão:

- a) Os policiais invadiram o local e foram recebidos à tiros;
- b) Adriano, o Imperador, foi à Roma regularizar sua situação. Quando voltou de Roma, já estava escalado no time;
- c) Nas últimas viagens feitas pelo ex-presidente, ele dirigiu-se à Bahia e, posteriormente, a Paris. Pura contradição!
- d) Todas as compras foram feitas à prazo, no cartão de crédito;
- e.) João falou à certo senhor de que seu sonho havia se realizado.

08 - Leia o Texto 3(três), observando as lacunas de ordem ortográfica existentes em algumas palavras:

TEXTO 3: Fumaça antibandido

Algumas lojas brasileiras já estão se equipando com uma nova arma contra ladrões. Trata-se de um sistema eletrônico que emite fumaça especial que bloqueia a vi_ão (1) do ladrão, ___mpedindo(2) o furto de mercadorias e facilitando a pri_ão(3) do inva___or (4).

O dispo___itivo(5) é capaz de, em menos de cinco segundos, en___er (6) uma área de até 120m², com uma fumaça seca e opaca, comprometendo a a_ão(7) do ladrão e tentando ___mpedi-lo (8) de en___ergar (9) a saída. Com ___eiro(10) de hortelã suave, a fumaça é inofensiva e dissipa-se em 20 minutos. O sistema eletrônico é a_ionado(11) a partir do momento em que há disparo de algum alarme.

(FONTE: CEREJA, W.R. e MAGALHÃES, T. C. Português Linguagens. P. 49)

Observe, nas alternativas abaixo, o que as sentenças afirmam sobre o preenchimento ortográfico das lacunas:

- I) As lacunas 1, 3, 4 e 5 devem ser preenchidas com **S**;
- II) A lacuna 2 e 8 deve ser preenchidas com **E**;
- III) As lacunas 6, 9 e 10 devem ser preenchidas com **CH**;
- IV) As lacunas 6 e 10 devem ser preenchidas com **CH** e a lacuna 9 com **X**;

- V) As lacunas 1 e 3 devem ser preenchidas com **Z**;
- V) As lacunas 7 e 11 devem ser preenchidas com **Ç**;
- VII) Há apenas uma lacuna que deve ser preenchida com **Ç**.

Assinale a ÚNICA alternativa VERDADEIRA, de acordo com a ortografia padrão da Língua Portuguesa, em relação às sentenças acima:

- a) I, II e III são corretas;
- b) III, V, VII são corretas;
- c) Apenas I e IV estão corretas;
- d) I, IV e VII são corretas;
- e) Apenas II e VI são corretas.

09 - Leia e analise as sentenças abaixo:

- I) Irei viajar na semana que vem, porque estou de férias.
- II) Por que todos estão olhando para mim?
- III) Penso muito em preservar o porquê desta escolha.
- IV) Embora o dia estivesse propício para o evento, o público não veio. Por que?
- V) Este é o ideal por que sou conduzido.
- VI) Preciso saber o porque da ausência do gerente na reunião.

Assinale a única alternativa que está CORRETA em relação ao uso dos PORQUÊS nas sentenças acima:

- a) As alternativas I, IV, V e VI estão incorretas;
- b) Apenas as alternativas IV e VI estão incorretas;
- c) Apenas as alternativas I, II e III estão corretas;
- d) As alternativas I, II, III e IV estão corretas;
- e) Todas as alternativas estão corretas.

10 - A acentuação gráfica está pautada na tonicidade das palavras, o que determina a grande maioria de suas regras. Em 2009, entrou em vigor um novo acordo Ortográfico que modificou apenas algumas destas regras, que na sua maioria constituíam-se em exceções e regras especiais. De acordo com a atual ortografia oficial, assinale a ÚNICA alternativa em que se ERRA quanto à explicação das regras do acento gráfico nas palavras citadas:

- a) HERÓI: as oxítonas terminadas em ditongo aberto continuam sendo acentuadas;
- b) ÔNIBUS – SÁBADO: Todas as proparoxítonas devem ser acentuadas, mesmo se com som fechado (como em ônibus) ou agudo (como em Sábado);
- c) CAFÉ – SOFÁ: todas as proparoxítonas que terminam em vogais são acentuadas;
- d) Eles TÊM: o acento diferencial de plural no verbo TER e derivados como manter e deter ainda é necessário, mesmo após acordo ortográfico;
- e) SAÚDE: acentuam-se sempre os hiatos constituídos por semivogais I e U tônicos.

QUESTÕES CONHECIMENTOS GERAIS

11) Recentemente o Egito, localizado no nordeste africano, foi manchete dos jornais, rádios e TVs do mundo. Analise as alternativas abaixo:

- I) Em janeiro de 2011 eclodiram grandes manifestações populares em todo o país com objetivo de derrubar o regime do presidente Mubarak;
- II) Eleito o novo presidente do Egito, Gamal Mubarak;
- III) Hosni Mubarak, em 11 de fevereiro de 2011, renuncia do posto de presidente do Egito;
- IV) Dentre os motivos para início das manifestações populares e tumultos estão: a lei de estado de exceção, o desemprego, a falta de moradia, a falta de liberdade de expressão e más condições de vida;
- V) As autoridades egípcias liberam cerca de 900 membros do grupo fundamentalista Al-Gamma AL-Islamiya.

Assinale a resposta que NÃO CORRESPONDE aos recentes fatos ocorridos no Egito:

- a) Somente a alternativa II;
- b) Somente a alternativa IV;
- c) Somente a alternativas V;
- d) Somente as alternativas II e V;
- e) Somente as alternativas IV e V.

12) Correlacione os conceitos a seguir:

- I) Eficiência;
- II) Burocracia Organizacional;
- III) Planejamento;
- IV) Planejamento Estratégico;
- V) Eficácia.

() Relação entre os resultados obtidos e os objetivos pretendidos. Fazer a coisa certa. Qualidade e satisfação;

() Ferramenta administrativa, que permite perceber a realidade, avaliar os caminhos, prever ações, construir um referencial futuro;

() Forma de organização que se caracteriza por regras e procedimentos explícitos e regularizados, a fim de garantir a máxima eficiência possível no alcance desses objetivos;

() Elaborar objetivos para a seleção de programas de ação e para sua execução, levando em conta as condições internas e externas à empresa e sua evolução esperada;

() Recursos são convertidos em resultados de forma mais econômica, ou seja, fazer mais com menos. Padronização e especialização.

A sequência CORRETA obtida a partir da correlação entre os conceitos e as definições é:

a) I, II, III, IV e V;

b) I, III, II, IV e V;

c) V, III, II, IV e I;

d) I, IV, III, II e V;

e) V, III, IV, II, I.

13) A América do Sul tem uma extensão de cerca de 17,8 milhões de Km², abrangendo 12% da superfície terrestre e em torno de 6% da população mundial. Com relação aos países da América Latina é CORRETO afirmar:

I) Brasil e Argentina atualmente têm como presidente da república duas mulheres;

II) Na América Latina está a segunda maior cordilheira do mundo;

III) O maior lago desta América é o Lago Titicaca com 8.300km²;

IV) Economicamente o Brasil é o país mais rico;

V) Os idiomas mais falados são o espanhol e português.

a) As afirmativas I e V estão corretas;

b) As afirmativas I, II e V estão corretas;

c) As afirmativas I e IV estão corretas;

d) Somente a afirmativa I está correta;

e) Todas as afirmativas estão corretas.

14) A propósito da Constituição Federal de 1988 pode-se afirmar:

I) Foi a que menos sofreu emendas constitucionais;

- II) O capítulo II da constituição trata dos direitos e garantias fundamentais;
- III) Foi elaborada por um poder constituído democraticamente;
- IV) Institui a prática de racismo;
- V) Novos direitos trabalhistas foram definidos como seguro desemprego, férias remuneradas e acrescidas de 1/3 do salário para os trabalhadores urbanos e rurais e se estendem aos trabalhadores domésticos.

Está CORRETO:

- a) Apenas a alternativa III;
- b) Apenas as alternativas III e V;
- c) Apenas as alternativas II, III e V;
- d) Todas as alternativas estão corretas;
- e) Todas as alternativas estão incorretas.

15) A instalação do Município de Ermo se deu em 29/12/1995 e pertence a Microrregião do Extremo Sul Catarinense. Analise as afirmações abaixo:

- I) Foi criado em 1993 e pertencia ao Município de Turvo;
- II) Foi o primeiro do Brasil e da América do Sul a ter um sistema de plebiscito computadorizado, em que 98% dos moradores votaram pela emancipação;
- III) Possui uma população aproximada de 2.050 habitantes e uma área territorial de 64 Km²;
- IV) A colonização e as principais etnias do município são a italiana e açoriana;
- V) A principal atividade econômica provém do setor secundário.

Com relação às afirmações acima assinale a alternativa INCORRETA:

- a) Apenas afirmativa III está incorreta;
- b) Apenas afirmativa I está incorreta;
- c) Apenas as alternativas III e V estão incorretas;
- d) Apenas a alternativa V está incorreta;
- e) As afirmativas II e III estão incorretas;

Texto

“A Revolução de 1930 é conseqüência da política dos anos de 1920, e também, da crise econômica que o Brasil estava a passar, ocorrida devido à

super produção do café, que veio a ser seriamente agravada com a quebra da bolsa de Nova Iorque em 1929 e a queda da exportação desse principal produto da economia brasileira para outros países. Aliam-se a esses acontecimentos as exigências junto ao governo federal, de socorro, por parte dos produtores de café.

No aspecto político, o agravamento das dissidências regionais, o movimento tenentista e a política de Washington Luís que quebra o pacto do café com leite, são acontecimentos que contribuem para a formação da Aliança Liberal e toda a movimentação revoltosa que veio a culminar com a tomada do poder por Getúlio Vargas.

A revolução ocorrida no dia 03 de Outubro de 1930 teve como participantes membros da classe dominante, das forças armadas, da classe média, e, com essa insurreição, quem estava a perder a hegemonia política eram os oligarcas ligados a São Paulo.

Entretanto, Fausto (1972, p.54) considera como não revolucionários o movimento liderado por Vargas e a postura dos tenentes, antigos revolucionários da década de 1920, e que com essa revolta vieram a ser interventores em muitos estados: "Entretanto, sem ter condições nem a intenção de transformar a estrutura econômica e social, os tenentes acabariam por chegar a um entendimento com setores da classe dominante regional".

Na realidade, a Revolução de 1930 não extingue o poder das oligarquias no país. Mesmo tendo governado o Brasil com rigor, e, em muitos casos, sendo obrigado a ceder a interesses das classes dominantes, é inegável que Getúlio Vargas produziu diversas mudanças na estrutura do país, através da criação de leis trabalhistas, das empresas estatais do porte da Petrobrás, CSN, Vale do Rio Doce, e da dinamização das atividades industriais do país."

16) De acordo com o texto é INCORRETO:

- a) O governo de Getulio Vargas produziu mudanças como a criação de leis trabalhistas, a criação de empresas estatais e extinguiu as oligarquias;
- b) O governo brasileiro nas primeiras décadas século XX mantinha a nação sob um regime econômico agro-exportador e com isto a economia sofreu graves oscilações;
- c) A crise das oligarquias foi um passo crucial para a Revolução de 30;

- d) Getulio Vargas chega ao poder em 1930 através de um golpe armado;
- e) As oligarquias de São Paulo perdem o poder.

17) O governo do general Emilio Garrastazu Médici, do ponto de vista político, foi o mais duro dos governos militares. As manifestações contrárias eram consideradas perigosas, muitos cidadãos foram presos e perseguidos, outros mal tratados nas prisões, mortos e muitos outros desapareceram sob a guarda das autoridades brasileiras da época. Além dos fatos já relatados o governo Médici foi responsável também:

- I) Pelo crescimento da economia brasileira conhecida como os anos do “milagre econômico”;
- II) Pelo investimento em grandes projetos como: construção de estradas e hidrelétricas;
- III) Pelo processo de "abertura" política, extinguindo o bipartidarismo;
- IV) Pelo estímulo a exploração da Amazônia e da região Centro-Oeste;
- V) Pela assinatura do acordo para a construção de usinas nucleares no Brasil.

Com relação às afirmações acima, assinale a alternativa CORRETA:

- a) Apenas afirmativa I está correta;
- b) As alternativas I, II e IV estão corretas.
- c) Apenas afirmativa II está correta;
- d) As alternativas III e IV estão corretas;
- e) As alternativas IV e V estão corretas;

Analise os mapas abaixo:

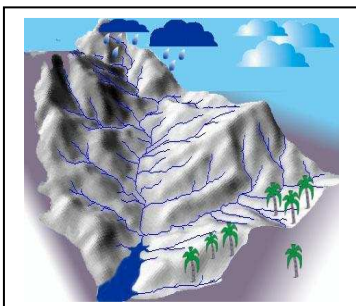


Figura 01

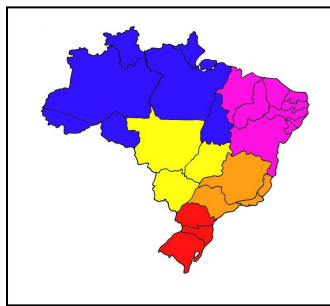


Figura 02

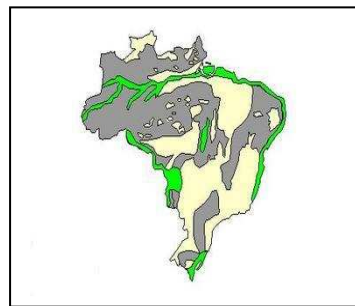


Figura 03

Fonte:

Figura 01: <http://www.caminhodasaguas.ufsc.br>

Figura 02: Blog da Escola Alfa

Figura 03: www.sogeografia.com.br

18) Com relação as figuras dos mapas acima responda CORRETAMENTE:

- I) O mapa 01 representa as rodovias brasileiras;
- II) O mapa 02 representa a divisão do Brasil em regiões de acordo com o clima, relevo, vegetação e a hidrografia;
- III) O mapa 03 representa a hidrografia brasileira;
- IV) O Mapa 01 representa a drenagem do curso das águas na formação das bacias hidrográficas brasileiras e o mapa 03 representa o relevo brasileiro;
- V) O mapa 02 representa as bacias hidrográficas e o mapa 03 o clima brasileiro.

Estão CORRETAS:

- a) As alternativas I e III;
- b) As alternativas I e V;
- c) As alternativas I, II e III;
- d) As Alternativas II, III e IV;
- e) As alternativas II e IV.

19) Santa Catarina, está localizada na região sul do Brasil, com extensão territorial de 95,703,487 mil km² e uma população de 6.149.682 mil habitantes no ano de 2010. Analise as afirmativas abaixo:

- I) É diversificada e equilibrada;
- II) É o sexto estado brasileiro mais rico;
- III) As principais atividades desenvolvidas são: a indústria, agricultura e extrativismo mineral;
- IV) O Estado Catarinense é responsável por 30% da oferta nacional de fruta;
- V) É o maior produtor de cebola e o segundo maior em produção de maçã.

Com relação à economia catarinense é CORRETO afirmar:

- a) Todas as afirmativas estão corretas;
- b) Apenas a afirmativa I está correta;
- c) As afirmativas III e V estão corretas;
- d) As afirmativas II, III e V estão corretas;
- e) Todas as afirmativas estão incorretas.

20) Interprete as figuras a seguir:



Figura 01



Figura 02



Figura 03



Figura 04

- I) As figuras representam a responsabilidade sócio ambiental;
- II) As figuras representam o valor que o ser humano dá aos recursos naturais;
- III) As figuras representam a despoluição do planeta;
- IV) As figuras representam a Responsabilidade Social e a Sustentabilidade;
- V) As figuras representam o equilíbrio existente entre a natureza e os seres humanos.

Em relação às figuras e as afirmativas acima é CORRETO afirmar que elas representam:

- a) Apenas a afirmativa I está correta;
- b) Apenas a afirmativa I e IV estão corretas;
- c) Apenas a afirmativa III está correta;
- b) Apenas a afirmativa V está correta;
- c) Nenhuma afirmativa está correta

QUESTÕES DE RACIOCÍNIO LÓGICO

21) Uma aeromoça atende três estudantes. Um tem cabelo claro, outro tem cabelo escuro e, outro, cabelo ruivo. Um dos estudantes tem o nome de Paulo, o outro de Pedro e, o outro de Pablo. Cada um dos estudantes irá para um Estado distinto do Brasil, isto é, um irá para o Rio Grande do Sul, o outro para Santa Catarina e, o outro para o Paraná.

Foi prestado ainda à aeromoça as seguintes informações:

- 1) O estudante de cabelo claro não irá para Santa Catarina nem para o Paraná;
- 2) O estudante de cabelo escuro não se chama Pedro nem Pablo;
- 3) O estudante de cabelo ruivo e o estudante de nome Pedro não irão à Santa Catarina.

Logo, no presente exemplo, pode a aeromoça concluir de forma CORRETA que:

- a) O estudante de cabelo claro tem o nome de Pablo e vai para o Paraná;
- b) O estudante de cabelo ruivo tem o nome de Pablo e vai para Santa Catarina;
- c) O estudante de cabelo ruivo tem o nome de Paulo e vai para o Paraná;
- d) O estudante de cabelo claro tem o nome de Pedro e vai para o Rio Grande do Sul.
- e) O estudante de cabelo escuro tem o nome de Paulo e vai para o Paraná;

23) Considerando que um conjunto numérico é composto unicamente pelos algarismos 1, 2 e 3, quantos números poderão ser formados sendo admitidos, no máximo, três algarismos em cada número?

- a) 9;
- b) 18;
- c) 27;
- d) 39;
- e) 69;

24) Considerando que um conjunto numérico é composto unicamente pelos algarismos 1, 2 e 3, quantos números poderão ser formados sendo admitidos, no máximo, três algarismos em cada número?

- a) R\$ 104,00;
- b) R\$ 208,00;
- c) R\$ 196,00;
- d) R\$ 216,00;
- e) R\$ 246,00.

25) Uma estante tem 4 prateleiras. A primeira mede $\frac{1}{8}$ da altura da estante. A segunda mede $\frac{1}{4}$ da altura da estante. Neste caso, que fração da estante mede as outras duas prateleiras juntas?

- a) $\frac{3}{7}$;
- b) $\frac{5}{9}$;
- c) $\frac{5}{8}$;
- d) $\frac{7}{9}$;
- e) $\frac{11}{8}$.

QUESTÕES DE CONHECIMENTOS ESPECIFICOS

26) Dentro das patologias da região pélvica feminina, quando é referido uma “massa pélvica = MP”, temos que levar em consideração os múltiplos órgãos que se apresentam dentro desta área anatômica. Assim sendo, quaisquer destas estruturas anatômicas possuem a capacidade para formar uma determinada massa pélvica. Referente aos principais diagnósticos diferenciais da patologia descrita (MP), qual dos enunciados abaixo contém uma das opções INCORRETA:

- a) Leiomioma; tumor ovariano borderline; Polipo Uterino; Cancer Endometrial; Diverticulitis;
- b) Abscesso tubo-ovariano, gravidez ectópica; Câncer colo retal; cisto para ovariano; retenção urinária;
- c) Endometrioma, Ovário policístico; torção ovariana; metastasis cancerígena;
- d) Apendicitis; Câncer da trompa de falópio; hidrosalpins; Cisto ovariano funcional; gravidez;
- e) Câncer cervical; câncer colo retal; Cisto de Nabot; colpite micótica; ílio biliar.

27) Senhor J.H.R. de meia idade, leva ao Pronto-Socorro uma gestante inconsciente, relatando tê-la encontrada desacordada em frente a sua residência. Por conhecer a paciente I.R.A. (vizinha), relatou que a mesma pertence a uma família de baixos recursos, tem em média 17 anos, não realizava controle pré-natal e tem uma gestação estimada de 35 semanas. Ao exame físico: apresenta hematomas em MMSS e MMII, com pequenas escoriações, sem déficits motores. PA de 160x110 mmHg. Pulso de 68 bpm. A.U de 34cm. Latidos cardíacos fetais com 130 bpm. Dinâmica uterina de 2 contrações médias em 10min. Edema de MMII (+++) com reflexos exaltados. Ao exame de toque: colo médio, pérvio para 3,0 cm, apresentação cefálica, alta e fixa e BI. Segundo o enunciado, assinale a alternativa CORRETA:

- a) Estamos frente a um provável caso de pré-eclâmpsia grave. Devendo frente a este quadro colher todos os exames necessários para a confirmação do

diagnóstico, introduzir pindolol 30mg/dia e avaliar a vitalidade fetal. Se o diagnóstico for confirmado, interrompe-se a gestação através de cesárea;

b) Por se tratar de um caso de eclâmpsia em trabalho de parto a conduta a ser seguida é administração de sulfato de magnésio, verificar para avaliação a vitalidade fetal e em condições clínicas favoráveis conduzir o trabalho de parto.

c) Como o diagnóstico diferencial não podemos afastar a hipótese de epilepsia, o melhor conduta será hidantalizar a paciente e em seguida fazer uma cesárea;

d) O diagnóstico clínico está duvidoso, devendo-se realizar os exames neurológicos necessários e completos, bem como solicitar uma tomografia computadorizada de crânio;

e) Pelo diagnóstico não estar claro, deve-se deixar a gestante em observação.

28) Com relação à questão anterior, frente a pacientes que apresentem quadros semelhantes, com diagnóstico de pré-eclâmpsia grave, referido ao tratamento da clínica apresentada pela paciente, a principal justificativa para o emprego do sulfato de magnésio consiste em:

a) Gerar a prevenção das crises convulsivas;

b) Promover um aumento da diurese;

c) Esperar uma ação de reversão da hipomagnesemia;

d) Provocar uma diminuição da hipertonia uterina;

e) Buscar níveis aceitáveis para a proteinúria.

29) Referente às patologias que possam se apresentar no decorrer de uma gestação, ao comentarmos sobre a diabetes mellitus gestacional, é correto afirmar que:

a) Paciente de cor branca, alta injeta de carboidratos, três ou mais abortamentos consecutivos anteriores, alto nível sócio-econômico, primiparidade tardia, constituem os fatores de risco para o diabetes gestacional;

b) Caso a paciente apresente antecedentes familiares para diabetes mellitus, a conduta para um bom diagnóstico será feito através da glicemia de jejum no

início da gestação em todas as gestantes e o mesmo exame ser repetido com 32.

c) O procedimento mais aceitável seria antecipar o parto pelo risco elevado de óbito fetal nestas gestantes.

d) Em decorrência da maior passagem de glicose pela placenta na diabetes mellitus gestacional, o feto poderá apresentar dentro das alterações esperadas tais como a poliglobulia, hipoglicemia neonatal, prematuridade, icterícia e macrossomia, podendo ser explicadas através da hiperinsulinêmica fetal;

e) Somente as gestantes de risco merecem pesquisas do diabetes gestacional, realizando-se exames de glicemias de jejum e as 36 semanas de gestação, teste de tolerância à glicose oral.

30) Com relação à questão anterior (04), as profundas modificações impostas ao organismo materno em decorrência de uma gestação, quando nos referimos ao metabolismo glicídico em pacientes saudáveis, este se caracteriza por:

a) A glicemia pós-prandial se apresenta com decréscimo de suas taxas;

b) A glicemia de jejum sofre elevação de seus teores;

c) O glucagon apresenta um incremento de sua ação periférica;

d) A insulina pós-prandial tem sua concentração sanguínea reduzida;

e) A glicose tem sua utilização periférica diminuída.

31) Gestante múltipara (gestas 03, aborto 02), em seu segundo trimestre de gravidez, com 38 anos de idade, e diagnóstico de diabetes mellitus, insulino dependente, consulta em emergência por apresentar a alguns dias, cansaço, desânimo, dores articulares e câibras, com edema em rosto e tornozelos. No exame físico constatou-se PA 90/60 mmHg. A mesma paciente prefere aplicar de forma regular e rigorosa sua medicação segundo orientações médicas. Após controle laboratorial constatou-se a necessidade de ajuste decrescente de insulina para melhor controlar sua glicemia. Referente ao quadro do enunciado estamos frente a uma ocorrência de:

- a) Insuficiência placentária;
- b) Microssomia feta;
- c) Espinha bífida;
- d) gemelaridade imperfeita;
- e) polidrâmio agudo.

32) O complexo sistema de fixação do útero está representado pelos aparelhos de sustentação, suspensão e contenção, mantendo comumente a posição encontrada do útero, em posição mediana e anteverso flexão. Para manter esta situação dentro do contexto da pelve, quais seriam as estruturas que representam esta função respectivamente:

- a) Diafragma pélvico principal, músculos transverso profundo e levantador do ânus e fáscia endopélvica;
- b) Fáscia endopélvica, diafragma pélvico principal e músculo transverso profundo;
- c) Retinaculum uteri, fáscia endopélvica e diafragma pélvico e esfíncter estriado do ânus;
- d) Retinaculum uteri, músculo transverso profundo e suas aponeuroses e contração dos músculos abdominais;
- e) Diafragma pélvico principal, retinaculum uteri e fáscia endopélvica.

33) No dia 31 de dezembro de 2010, às 23:50 horas, dá entrada no serviço da maternidade do Hospital, a gestante T.V.L. com 18 anos de idade, primigesta e cardiopata conhecida, encontra-se em pleno trabalho de parto. Apresenta ao exame físico uma ausculta pulmonar normal, com ausculta cardíaca revelando bulhas rítmicas e normofonéticas, mas com sopros sistólicos de (++) em foco mitral. Apresenta também 6 cm de dilatação cervical. No ingresso entregou à enfermeira chefe da maternidade alguns exames laboratoriais, dentre eles um ecocardiograma com resultado revelando estenose mitral com moderada repercussão hemodinâmica. Apresenta área valvar de 1,1 cm² e em átrio esquerdo com dilatação. Frente a esta paciente qual seria a melhor conduta a se realizar:

- a) Aplicar uma anestesia raquidiana, e realizar o parto normal;
- b) Aplicar a anestesia peridural e proceder o parto normal com auxílio do fórcepe de alívio;
- c) Realizar no serviço parto normal, sem qualquer anestesia;
- d) Aplicar a anestesia geral, e proceder o parto normal com auxílio do fórcepe de alívio;
- e) Encaminhar a paciente ao centro cirúrgico, aplicar anestesia geral, e realizar uma cesárea imediata.

34) Quando nos direcionamos aos procedimentos relacionados ao câncer de mama, de importância cirúrgica incontestável na limpeza ganglionar em cirurgias ablativas, estão as fáscias que confluem na axila. Estas estruturas anatômicas possuem as seguintes camadas distintas:

- a) A fáscia que recobre o músculo grande peitoral originada do músculo pequeno peitoral, e a fáscia superficial clavicularoaxilar;
- b) A fáscia profunda, que apresenta sua continuidade com a fáscia do lado oposto e a fáscia do músculo deltóide, que também recobre o músculo grande peitoral.
- c) A fáscia costocoracóide profunda, encontrada sobre o músculo coracóide, e a fáscia superficial, recobrindo o músculo grande peitoral;
- d) A fáscia costocoracóide ou intermediária, e a superficial, responsável pela estática do músculo pequeno peitoral.
- e) A fáscia coracóide profunda encontrada sobre o músculo coracóide e a fáscia superficial, que apresenta suas terminações na axila, recobrindo o músculo pequeno peitoral.

35) Em seu plantão no Posto de Saúde, vem junto de sua senhoria uma mulher A.D.M. com 28 anos de idade , solteira, em sua consulta refere não ter muito cuidado com sua saúde, que mantém relações com múltiplos parceiros e que costuma sair para a balada todos os finais de semana, encontra-se em uso de anticoncepcional oral há 8 anos e não faz uso de preservativo. Refere em sua queixa principal, dor abdominal com predomínio em hipocôndrio e flanco direitos; trás junto consigo um

exame ultra-sonográfico de abdome, realizado há algum tempo, o mesmo demonstrando nódulo sólido hipoecogênico, medindo 6 cm de diâmetro e com sua localização no segmento hepático VII. Conjuntamente apresenta outros resultados com avaliações diagnósticas através de TAC e RMN, ambos confirmaram a presença do nódulo encontrado no exame ultra-sonográfico, também apresenta mais um resultado de uma cintilografia hepática, onde se utilizou o marcador "DISIDA", demonstrando hipercaptação pelo nódulo a este contraste, bem como a hipocaptação do marcador de ENXOFRE COLOIDAL. Frente a este quadro clínico, qual seria seu diagnóstico e a melhor conduta a proceder:

- a) Apenas realizar uma nodulectomia, pois estamos frente a uma hiperplasia nodular focal;
- c) Preparar a paciente e realizar uma laparoscopia diagnóstica, para então realizar o tratamento, pois apenas estamos frente a uma esteatose focal hepática, decorrente de uma disfunção hormonal de ovário;
- d) Realizar uma ressecção hepática, pois se trata de um adenoma hepático;
- e) Estamos frente a um hemangioma hepático, e a melhor conduta seria realizar uma biópsia por punção guiada através de TAC;
- d) Orientar a paciente que retorne no período de seis meses para reavaliação clínica, pois apresenta um nódulo de regeneração hepática, metastática de ovário.

36) Os sintomas mais comuns apresentados pelo papiloma intraductal solitário (lesão característica dos ductos proximais), da mama, podemos afirmar que clinicamente temos:

- a) O mamilo se apresenta com múltiplas ulcerações;
- b) Presença de estruturas em "casca de laranja" na pele da mama;
- c) Dor de intensidade moderada, com irradiação para a axila.
- d) Ulcerações areolares com edema.
- e) Seroso ou sanguinolento são as características da secreção papilar.

37) Quando pensamos em doenças referidas a menacme da mulher, sabemos que a endometriose tem sua maior incidência na quarta década de vida e suas principais características são:

- a) Apresenta tecido endometrial em região ectópica, de forma não neoplásico, tem a principal característica de nunca se proliferar;
- b) É de apresentação fácil ao diagnóstico de exame ultra-sonográfico;
- c) Pode ser diagnosticada pelo ultra-sonografia com o aparecimento de cistos de Sampson e com características de proliferação;
- d) Tecido endometrial encontrado fora da cavidade uterina, não neoplásico, de constituição semelhante ao endométrio;
- e) As gestantes múltiparas por sua maior probabilidades de invasão do miométrio pelo tecido endometrial, esta caracterizada como de causa permanente.

38) A síndrome dos ovários policísticos, em sua fisiologia, encontramos uma diminuição da globulina ligada ao hormônio sexual (SHBG), esta redução tem como causa:

- a) Redução de alguns hormônios principalmente o LH;
- b) A insulina apresenta um grande aumento;
- c) Níveis de progesterona reduzidos;
- d) A testosterona livre apresenta-se aumentada;
- e) O estradiol livre encontra-se muito baixo.

39) Paciente M.F.S. procedente do interior de Manaus - AM, apresenta-se no serviço do Posto de Saúde em uma determinada cidade do Estado de Santa Catarina, por apresentar quadro de febre alta (até 39,8°C), cefaléia holocraniana há 5 dias, falta de ar e rigidez abdominal leve há 2 dias. Refere gestação de 7 meses. Veio a passeio em casa de familiares nesta cidade referida anteriormente há 10 dias e que não lembra de ter outras intercorrências nos meses anteriores. Pensando em uma doença endêmica é realizado o exame de "gota espessa", onde apresentou como resultado o diagnóstico de malária. A paciente afirma não ter apresentado

quadro semelhante anteriormente. Com relação a este caso é CORRETO afirmar:

- a) Nas pacientes em períodos gestacionais, as formas parasitárias são mais difíceis de se erradicar pelo fato da gestação;
- b) Em toda infecção por *P. falciparum* com parasitemia maior que 2%, temos como indicação a hospitalização;
- c) Sabemos que os primos infectados normalmente não se observa envolvimento pulmonar, assim sendo a dispnéia apresentada pela paciente provavelmente é devido a hipertermia;
- d) Tratar a paciente com mefloquina, se a espécie isolada for *P. falciparum*, com retorno em sete dias para avaliação da resposta terapêutica;
- e) Instaurar tratamento com associação de cloroquina e primaquina, caso a espécie isolada for *P. vivax*.

40) Em um ambulatório médico do PSF, o ginecologista atende a paciente R.V.A. de 26 anos, casada. A paciente apresenta um exame de sangue de 30 dias atrás onde consta o diagnóstico de gravidez. Refere ao médico que conjuntamente com seu marido, sempre tiveram o desejo de se tornarem pais, mas frente a esta situação de gravidez diz estar muito assustada com esta possibilidade e que desde a suspeita de gravidez, a mais de um mês atrás, apresenta períodos contínuos de angústia, por acreditar não estar preparada para ser mãe. Apresenta uma história de transtorno bipolar ao qual abandonou o tratamento há um ano. É realizado o exame psiquiátrico onde apresentou “polarização do humor para depressão, lábil e emotiva, estado psicomotor retardado, com discurso pessimista”. Refere também que após a confirmação da gravidez (sétima semana), acredita que o marido estaria envenenando sua alimentação por não acreditar que o filho seja dele e que também sua mãe finge que a ajuda com intenções de se aproximar para "roubar sua família". Neste caso, qual seria a melhor conduta de primeira escolha:

- a) Encaminhar a paciente a um psicólogo, para seguimento com psicoterapia, e aguardar sua evolução para tomar a decisão de qual conduta farmacológica instaurar;

- b) Pelo quadro diagnosticado no exame psiquiátrico o tratamento preconizado é a associação de carbonato de lítio com um antidepressivo;
- c) Como se trata de um caso de depressão, iniciar tratamento com um antidepressivo;
- d) Pelos fatores descritos a melhor conduta seria realizar um tratamento em associação com um antipsicótico e com um antidepressivo;
- e) Preparar a paciente, e iniciar eletroconvulsoterapia.

CARTÃO DE RESPOSTAS
PROVA CONCURSO PÚBLICO Nº 01/2011
CARGO DE MÉDICO

| | A | B | C | D | E |
|----|---|---|---|---|---|
| 01 | | | | | |
| 02 | | | | | |
| 03 | | | | | |
| 04 | | | | | |
| 05 | | | | | |
| 06 | | | | | |
| 07 | | | | | |
| 08 | | | | | |
| 09 | | | | | |
| 10 | | | | | |
| 11 | | | | | |
| 12 | | | | | |
| 13 | | | | | |
| 14 | | | | | |
| 15 | | | | | |
| 16 | | | | | |
| 17 | | | | | |
| 18 | | | | | |
| 19 | | | | | |
| 20 | | | | | |

| | A | B | C | D | E |
|----|---|---|---|---|---|
| 21 | | | | | |
| 22 | | | | | |
| 23 | | | | | |
| 24 | | | | | |
| 25 | | | | | |
| 26 | | | | | |
| 27 | | | | | |
| 28 | | | | | |
| 29 | | | | | |
| 30 | | | | | |
| 31 | | | | | |
| 32 | | | | | |
| 33 | | | | | |
| 34 | | | | | |
| 35 | | | | | |
| 36 | | | | | |
| 37 | | | | | |
| 38 | | | | | |
| 39 | | | | | |
| 40 | | | | | |

ASSINATURA DO (A) CANDIDATO (A)

INSCRIÇÃO

NOME DO (A) CANDIDATO (A)

LOCAL E DATA