

**ESTADO DE SANTA CATARINA
MUNICÍPIO DE ERMO**

PROVA CONCURSO PÚBLICO Nº 1/2011

CARGO: FISIOTERAPEUTA

DIA: 13 de março de 2011 - HORÁRIO: 08h00min às 12h00min

O tempo total concedido para a resolução da prova é de 4 (quatro) horas, incluindo o tempo destinado ao preenchimento do cartão de respostas.

I N S T R U Ç Õ E S

Confira o número de questões da prova: 10 (dez) questões de Português, 10 (dez) questões de conhecimentos gerais 05 (cinco) questões de Raciocínio Lógico e 15 (quinze) questões de conhecimentos específicos.

A interpretação das questões é parte integrante da prova, não sendo permitidas perguntas aos fiscais. Não destaque folhas da prova.

No cartão de respostas, preencha seu nome, seu número de inscrição. Examine se há marcações indevidas no campo destinado às suas respostas. Se houver, reclame imediatamente.

Verifique se faltam folhas na prova, se a sequência de questões, no total de 40 (quarenta), está correta e se há imperfeições gráficas que possam causar dúvidas. Comunique imediatamente ao fiscal qualquer irregularidade.

Para cada questão são apresentadas 5 (cinco) alternativas diferentes de respostas (A, B, C, D e E). Apenas uma delas constitui a resposta correta em relação ao enunciado da questão.

Utilize somente caneta esferográfica com tinta azul ou preta.

Questões em branco ou que contenham mais de uma resposta ou emendas ou rasuras não serão consideradas.

Durante a realização das provas é vedada a consulta a livros, revistas, folhetos ou anotações, bem como o uso de máquinas de calcular ou qualquer equipamento elétrico ou eletrônico, inclusive telefones celulares, sob pena de eliminação do candidato do concurso.

Ao encerrar a prova, entregue ao fiscal o cartão de respostas devidamente assinado e o caderno da prova.

ASSINATURA DO (A) CANDIDATO (A)

INSCRIÇÃO

NOME DO (A) CANDIDATO (A)

LOCAL E DATA

QUESTÕES DE PORTUGUÊS

As questões de 01 a 03 têm como base o texto 1 -“Um país sem defesa”.

TEXTO 1 – “UM PAÍS SEM DEFESA”	
1	Com um sistema ineficiente de prevenção e alerta e Defesas Civis lentas ou
2	inexistentes nos municípios, o Brasil fica à mercê dos eventos climáticos.
3	A Europa havia acabado de entrar no verão de 1940 quando a Força Aérea
4	Alemã iniciou uma gigantesca campanha de bombardeios a alvos civis britânicos,
5	durante a II Guerra Mundial. As autoridades inglesas padronizaram então um
6	conjunto de procedimentos para diminuir o número de mortes. O plano, que ficou
7	conhecido como Defesa Passiva atuava basicamente em três frentes: prevenção,
8	alarme e socorro. Nascia assim o conceito moderno de Defesa Civil, até hoje usado
9	como modelo para prevenção de catástrofes por vários governos em todo o mundo.
10	Infelizmente, setenta anos depois, o Sistema Nacional de Defesa Civil
11	(Sindec) brasileiro ainda não consegue cumprir com eficiência a primeira e a
12	segunda etapa, ou seja, prevenção e alarme. Sem mapas detalhados das áreas de
13	risco, sem esclarecimento e treinamento da população e sem sistema eficiente de
14	alertas preventivos, a Secretaria Nacional de Defesa Civil (Sedec) se limita a entrar
15	em campo depois da tragédia. Chega apenas para socorrer as milhares de vítimas
16	que escaparam com vida e enterrar as centenas de corpos dos que não tiveram a
17	mesma sorte.
18	(...)
19	Em alguns estados, como São Paulo e Santa Catarina, por exemplo, um
20	sistema próprio de alarme costuma alcançar alguma eficiência. Nessas estruturas,
21	informações coletadas por diferentes equipamentos são recebidas por um centro de
22	emergência estadual e analisadas por técnicos. Quando eles concluem que há risco,
23	começam a disparar telefonemas e SMS para colegas em órgãos operacionais
24	previamente estabelecidos nos municípios, entre eles a Defesa Civil.
25	Essas equipes, treinadas para receber o alerta e saber como agir, deslocam-se
26	para as áreas de risco e implementam medidas de segurança previamente
27	estabelecidas. Assim, na maioria dos casos, conseguem se antecipar a inundações e
28	deslizamentos de encostas. Nem sempre com total eficiência, mas com mais
29	agilidade do que as autoridades fluminenses.
30	(...)
31	Mudança de paradigma – Para que não se repitam todos os anos, após as
32	chuvas de verão, as imagens de cidades destruídas com centenas de caixões
33	enfileirados, o Sistema de Defesa Civil do Brasil precisa se libertar do vício das
34	medidas paliativas e emergenciais. Como bem observou Debarati Guha-Sapir,
35	consultora da Organização das Nações Unidas (ONU) no Centro de Pesquisas sobre
36	a Epidemiologia de Desastres (Cred), sediado em Bruxelas, na Bélgica, é um
37	absurdo que o Brasil, com "apenas um perigo natural para administrar", não consiga
38	fazê-lo. "Este foi o 37º deslizamento de terra no Brasil em menos de dez anos",
39	disse Debarati ao jornal francês <i>Le Monde</i> . "Imagine se o país também enfrentasse
40	terremotos, vulcões ou furacões. O Brasil não é Bangladesh, não tem desculpas.”
41	Se não bastasse o modelo de sucesso britânico durante a Segunda Guerra
42	Mundial, estão aí para ensinar o caminho os exemplos de eficiência de países como
43	Austrália, Tailândia e Indonésia, que lidam com enchentes e tsunamis muito mais
44	devastadores que as enchentes brasileiras.

45 46 47 48 49 50 51 52 53	<p>Voltando à época da concepção da Defesa Passiva, se a Inglaterra tivesse estruturado o seu programa nos moldes da Defesa Civil Brasileira, suas principais cidades jamais teriam sido equipadas com um milhão de abrigos antiaéreos logo nos primeiros meses da Segunda Guerra Mundial. A população não teria aprendido a se refugiar ao toque dos alarmes, porque não existiria a rede de radares e de observadores voluntários ao longo da costa para disparar as sirenes assim que os bombardeiros alemães cruzassem os céus sobre o Canal da Mancha. Conseqüentemente, as bombas alemãs teriam matado um número infinitamente maior que os 23.002 civis mortos durante os cinco meses de bombardeios.</p> <p>(DIAS, Marina; CASTRO, Gabriel. <i>Um país sem defesa</i>. In: VEJA On line. 21/01/2011. Disponível em: http://veja.abril.com.br/noticia/brasil/um-pais-sem-defesa. Acesso em 01.fev.2011)</p>
--	---

1 - O texto 1(um) aborda sobre catástrofes e ação da Defesa Civil. No excerto compreendido entre as linhas 19 e 29 é feita referência à ação (ou falta dela) em regiões específicas, as quais estão demarcadas textualmente nestas linhas. Quais são elas?

- a) Santa Catarina e São Paulo;
- b) Santa Catarina, São Paulo e Bruxelas;
- c) Santa Catarina, São Paulo e Rio de Janeiro;
- d) Municípios brasileiros que tem Defesa Civil, sem destacar região específica;
- e) Austrália, Tailândia e Indonésia.

2 - O termo “Assim” presente na linha 27, pode ser substituído, sem prejuízo de sentido no texto, por:

- a) “Entretanto”;
- b) “Talvez”;
- c) “Outrora”;
- d) “Deste modo”;
- e) “Desde que”;

3 - Na linha 37, a expressão “apenas um perigo natural para administrar”, faz referência direta a que outra(s) sentença(s) contida no texto 1(um)?

- a) “terremotos, vulcões e furacões” (linha 40);
- b) “medidas paliativas e emergenciais” (linha 34);
- c) “deslizamento de terra” (linha 38) e “enchentes brasileiras”(linha 44);
- d) “enchentes e tsunamis” (linha 43);

e) “chuvas de verão” (linha 32) e “centenas de caixões enfileirados” (linha 32-33);

As questões 04 e 05 têm como base texto 2 - “Natal feliz: evite problemas nas compras *on line*”.

1	O comércio eletrônico cresce a passos largos entre os brasileiros. Neste ano, o
2	número de compradores virtuais subiu 30% no país. A tendência deve se repetir no
3	período que antecede as festas de fim de ano, segundo estimativas da consultoria e-
4	bit. É fácil entender: quem compra pela internet evita filas e muitas vezes encontra
5	preço mais baixo. Mas os especialistas alertam: sem os devidos cuidados, uma
6	transação on-line pode se converter em dor de cabeça para o consumidor, que
7	poderá engolir sapo ao procurar trocar seu produto. Para evitar problemas, desconfie
8	de descontos gigantescos, pois podem ser produtos contrabandeados e sem garantia.
9	Assim, você pode estar comprando gato por lebre. Prefira lojas tradicionais: as
10	melhores são aquelas já testadas por você ou por conhecidos. Atenção para os e-
11	mails com falsas promoções, os quais são comuns nessa época do ano. Ignore-os.
12	Eles carregam arquivos com vírus ou links que, quando acessados, baixam invasores
13	nas máquinas. Evite que a vaca vá para o brejo e estrague seu fim de ano! (Adaptado de “Natal feliz: evite problemas nas compras on-line. VEJA on-line,10/12/2009.

4 - O texto 2(dois) apresenta algumas expressões que não podem ser consideradas em seu sentido denotativo. Assinale a alternativa que apresenta APENAS expressões contidas no texto e que estejam empregadas em sentido figurado e em linguagem coloquial:

- a) “engolir sapo” (linha 7); “comprando gato por lebre”(linha 9) e “vaca vá para o brejo” (linha 13);
- b) “produtos contrabandeados” (linha 8) e “falsas promoções” (linha 11);
- c) “transação on line” (linha 6) e “arquivos com vírus ou links” (linha 12);
- d) “produtos contrabandeados” (linha 8) e “ invasores nas máquinas” (linhas 12-13);
- e) “engolir sapo” (linha 7); “descontos gigantescos” (linha 8) e “lojas tradicionais” (linha 9).

5 - O texto 2(dois) aborda sobre perigos da compra on –line e a partir da linha 5, aponta algumas sugestões, tais como:

- I) “Desconfie de descontos gigantescos” (linhas 7-8);
- II) “Prefira lojas tradicionais (linha 9);
- III) “Ignore-os” (linha 11);

IV) Evite que a vaca vá para o brejo (linha 13);

Assinale a alternativa abaixo QUE CONTÉM o modo verbal que está presente nos verbos sublinhados nas sentenças acima:

- a) Modo Indicativo;
- b) Modo Imperativo;
- c) Modo Subjuntivo;
- d) Modo Indicativo nas sentenças I, III e IV e Modo Subjuntivo na sentença II.
- e) Nenhuma das alternativas anteriores, pois os verbos estão no Tempo Futuro.

6 - Abaixo há algumas afirmações sobre Concordância Verbal e Nominal. Preencha as lacunas com V (verdadeiro) ou F (falso) e após, ASSINALE A ALTERNATIVA QUE, RESPECTIVAMENTE, APRESENTA A SEQUÊNCIA CORRETA:

- () I - Dá-se em gramática o nome de concordância à circunstância de um adjetivo variar em gênero e número de acordo com o substantivo a que se refere (concordância nominal) e à de um verbo variar em número e pessoa de acordo com o seu sujeito (concordância verbal);
- () II - A concordância verbal diz respeito ao verbo em relação ao sujeito, o primeiro deve concordar em número (singular ou plural) e pessoa (1ª, 2ª, 3ª) com o segundo;
- () III - Locução verbal é uma expressão com dois ou mais verbos, sendo que, é necessário que ambos estejam flexionados e que nenhum deles seja impessoal;
- () IV- Adjetivos, artigos e substantivos são classes invariáveis em relação a número e gênero;
- () V- Advérbios pertencem ao grupo de palavras variáveis que, a modo do verbo, variam em gênero, número e grau;
- () VI - A concordância nominal diz respeito ao substantivo e seus termos referentes: adjetivo, numeral, pronome, artigo. Essa concordância é feita em gênero (masculino ou feminino) e pessoa;
- () VII - A frase “Houveram opiniões contrárias ao plano econômico” está correta pois o verbo haver flexiona de acordo com o plural;

() VIII - A frase “Deverá haver opiniões contrárias” está flexionada corretamente, pois o verbo haver permanece no singular.

- a) V – V – F – F – F – V – F – V;
- b) F – V – V – F – V – V – V – F;
- c) V – V – F – F – F – F – F – V;
- d) V – F – V – F – V – F – V – F;
- e) V – V – F – F – F – V – V – F;

07 - A ocorrência do sinal gráfico de crase aponta uma relação sintática. Tomando por base esta informação, assinale a ÚNICA ALTERNATIVA CORRETA que demonstra a CRASE em construção adequada ao uso da língua padrão:

- a) Os policiais invadiram o local e foram recebidos à tiros;
- b) Adriano, o Imperador, foi à Roma regularizar sua situação. Quando voltou de Roma, já estava escalado no time;
- c) Nas últimas viagens feitas pelo ex-presidente, ele dirigiu-se à Bahia e, posteriormente, a Paris. Pura contradição!
- d) Todas as compras foram feitas à prazo, no cartão de crédito;
- e) João falou à certo senhor de que seu sonho havia se realizado.

08 - Leia o Texto 3(três), observando as lacunas de ordem ortográfica existentes em algumas palavras:

TEXTO 3: Fumaça antibandido

Algumas lojas brasileiras já estão se equipando com uma nova arma contra ladrões. Trata-se de um sistema eletrônico que emite fumaça especial que bloqueia a vi___ão (1) do ladrão, ___mpedindo(2) o furto de mercadorias e facilitando a pri___ão(3) do inva___or (4).

O dispo___itivo(5) é capaz de, em menos de cinco segundos, en___er (6) uma área de até 120m², com uma fumaça seca e opaca, comprometendo a a___ão(7) do ladrão e tentando ___mpedi-lo (8) de en___ergar (9) a saída. Com ___eiro(10) de hortelã suave, a fumaça é inofensiva e dissipa-se em 20 minutos. O sistema eletrônico é a___ionado(11) a partir do momento em que há disparo de algum alarme.

(FONTE: CEREJA, W.R. e MAGALHÃES, T. C. Português Linguagens. P. 49)

Observe, nas alternativas abaixo, o que as sentenças afirmam sobre o preenchimento ortográfico das lacunas:

- I) As lacunas 1, 3, 4 e 5 devem ser preenchidas com **S**;
- II) A lacuna 2 e 8 deve ser preenchidas com **E**;
- III) As lacunas 6, 9 e 10 devem ser preenchidas com **CH**;
- IV) As lacunas 6 e 10 devem ser preenchidas com **CH** e a lacuna 9 com **X**;
- V) As lacunas 1 e 3 devem ser preenchidas com **Z**;
- VI) As lacunas 7 e 11 devem ser preenchidas com **Ç**;
- VII) Há apenas uma lacuna que deve ser preenchida com **Ç**.

Assinale a ÚNICA alternativa VERDADEIRA, de acordo com a ortografia padrão da Língua Portuguesa, em relação às sentenças acima:

- a) I, II e III são corretas;
- b) III, V, VII são corretas;
- c) Apenas I e IV estão corretas;
- d) Apenas II e VI são corretas;
- e) I, IV e VII são corretas.

09 - Leia e analise as sentenças abaixo:

- I) Irei viajar na semana que vem, porque estou de férias.
- II) Por que todos estão olhando para mim?
- III) Penso muito em preservar o porquê desta escolha.
- IV) Embora o dia estivesse propício para o evento, o público não veio. Por que?
- V) Este é o ideal por que sou conduzido.
- VI) Preciso saber o porque da ausência do gerente na reunião.

Assinale a única alternativa que está CORRETA em relação ao uso dos PORQUÊS nas sentenças acima:

- a) As alternativas I, IV, V e VI estão incorretas;
- b) Apenas as alternativas IV e VI estão incorretas;
- c) Apenas as alternativas I, II e III estão corretas;
- d) As alternativas I, II, III e IV estão corretas;
- e) Todas as alternativas estão corretas.

10 - A acentuação gráfica está pautada na tonicidade das palavras, o que determina a grande maioria de suas regras. Em 2009, entrou em vigor um novo acordo Ortográfico que modificou apenas algumas destas regras,

que na sua maioria constituíam-se em exceções e regras especiais. De acordo com a atual ortografia oficial, assinale a ÚNICA alternativa em que se ERRA quanto à explicação das regras do acento gráfico nas palavras citadas:

- a) HERÓI: as oxítonas terminadas em ditongo aberto continuam sendo acentuadas;
- b) ÔNIBUS – SÁBADO: Todas as proparoxítonas devem ser acentuadas, mesmo se com som fechado (como em ônibus) ou agudo (como em Sábado);
- c) Eles TÊM: o acento diferencial de plural no verbo TER e derivados como manter e deter ainda é necessário, mesmo após acordo ortográfico;
- d) CAFÉ – SOFÁ: todas as proparoxítonas que terminam em vogais são acentuadas;
- e) SAÚDE: acentuam-se sempre os hiatos constituídos por semivogais I e U tônico.

QUESTÕES DE CONHECIMENTOS GERAIS

11) A América do Sul tem uma extensão de cerca de 17,8 milhões de Km², abrangendo 12% da superfície terrestre e em torno de 6% da população mundial. Com relação aos países da América Latina é CORRETO afirmar:

- I) Brasil e Argentina atualmente têm como presidente da república duas mulheres;
- II) Na América Latina está a segunda maior cordilheira do mundo;
- III) O maior lago desta América é o Lago Titicaca com 8.300km²;
- IV) Economicamente o Brasil é o país mais rico;
- V) Os idiomas mais falados são o espanhol e português.

- a) As afirmativas I e V estão corretas;
- b) As afirmativas I, II e V estão corretas;
- c) As afirmativas I e IV estão corretas;
- d) Somente a afirmativa I está correta;
- e) Todas as afirmativas estão corretas.

12) Recentemente o Egito, localizado no nordeste africano, foi manchete dos jornais, rádios e TVs do mundo. Analise as alternativas abaixo:

- I) Em janeiro de 2011 eclodiram grandes manifestações populares em todo o país com objetivo de derrubar o regime do presidente Mubarak;
- II) Eleito o novo presidente do Egito, Gamal Mubarak;
- III) Hosni Mubarak, em 11 de fevereiro de 2011, renuncia do posto de presidente do Egito;
- IV) Dentre os motivos para início das manifestações populares e tumultos estão: a lei de estado de exceção, o desemprego, a falta de moradia, a falta de liberdade de expressão e más condições de vida;
- V) As autoridades egípcias liberam cerca de 900 membros do grupo fundamentalista Al-Gamma AL-Islamiya.

Assinale a resposta que NÃO CORRESPONDE aos recentes fatos ocorridos no Egito:

- a) Somente as alternativas II e V;
- b) Somente a alternativa II;

- c) Somente a alternativa IV;
- d) Somente a alternativas V;
- e) Somente as alternativas IV e V.

13) Correlacione os conceitos a seguir:

- I) Eficiência;
- II) Burocracia Organizacional;
- III) Planejamento;
- IV) Planejamento Estratégico;
- V) Eficácia.

() Relação entre os resultados obtidos e os objetivos pretendidos. Fazer a coisa certa. Qualidade e satisfação;

() Ferramenta administrativa, que permite perceber a realidade, avaliar os caminhos, prever ações, construir um referencial futuro;

() Forma de organização que se caracteriza por regras e procedimentos explícitos e regularizados, a fim de garantir a máxima eficiência possível no alcance desses objetivos;

() Elaborar objetivos para a seleção de programas de ação e para sua execução, levando em conta as condições internas e externas à empresa e sua evolução esperada;

() Recursos são convertidos em resultados de forma mais econômica, ou seja, fazer mais com menos. Padronização e especialização.

A sequência CORRETA obtida a partir da correlação entre os conceitos e as definições é:

- a) I, II, III, IV e V;
- b) I, III, II, IV e V;
- c) V, III, II, IV e I;
- d) I, IV, III, II e V;
- e) V, III, IV, II, I.

14)) A propósito da Constituição Federal de 1988 pode-se afirmar:

- I) Foi a que menos sofreu emendas constitucionais;
- II) O capítulo II da constituição trata dos direitos e garantias fundamentais;

- III) Foi elaborada por um poder constituído democraticamente;
- IV) Institui a prática de racismo;
- V) Novos direitos trabalhistas foram definidos como seguro desemprego, férias remuneradas e acrescidas de 1/3 do salário para os trabalhadores urbanos e rurais e se estendem aos trabalhadores domésticos.

Está CORRETO:

- a) Apenas as alternativas II, III e V;
- b) Apenas a alternativa III;
- c) Apenas as alternativas III e V;
- d) Todas as alternativas estão corretas;
- e) Todas as alternativas estão incorretas.

15) A instalação do Município de Ermo se deu em 29/12/1995 e pertence a Microrregião do Extremo Sul Catarinense. Analise as afirmações abaixo:

- I) Foi criado em 1993 e pertencia ao Município de Turvo;
- II) Foi o primeiro do Brasil e da América do Sul a ter um sistema de plebiscito computadorizado, em que 98% dos moradores votaram pela emancipação;
- III) Possui uma população aproximada de 2.050 habitantes e uma área territorial de 64 Km²;
- IV) A colonização e as principais etnias do município são a italiana e açoriana;
- V) A principal atividade econômica provém do setor secundário.

Com relação às afirmações acima assinale a alternativa INCORRETA:

- a) Apenas afirmativa III está incorreta;
- b) Apenas afirmativa I está incorreta;
- c) Apenas as alternativas III e V estão incorretas;
- d) As afirmativas II e III estão incorretas;
- e) Apenas a alternativa V está incorreta.

Texto

“A Revolução de 1930 é consequência da política dos anos de 1920, e também, da crise econômica que o Brasil estava a passar, ocorrida devido à super produção do café, que veio a ser seriamente agravada com a quebra da bolsa de Nova Iorque em 1929 e a queda da exportação desse principal

produto da economia brasileira para outros países. Aliam-se a esses acontecimentos as exigências junto ao governo federal, de socorro, por parte dos produtores de café.

No aspecto político, o agravamento das dissidências regionais, o movimento tenentista e a política de Washington Luís que quebra o pacto do café com leite, são acontecimentos que contribuem para a formação da Aliança Liberal e toda a movimentação revoltosa que veio a culminar com a tomada do poder por Getúlio Vargas.

A revolução ocorrida no dia 03 de Outubro de 1930 teve como participantes membros da classe dominante, das forças armadas, da classe média, e, com essa insurreição, quem estava a perder a hegemonia política eram os oligarcas ligados a São Paulo.

Entretanto, Fausto (1972, p.54) considera como não revolucionários o movimento liderado por Vargas e a postura dos tenentes, antigos revolucionários da década de 1920, e que com essa revolta vieram a ser interventores em muitos estados: "Entretanto, sem ter condições nem a intenção de transformar a estrutura econômica e social, os tenentes acabariam por chegar a um entendimento com setores da classe dominante regional".

Na realidade, a Revolução de 1930 não extingue o poder das oligarquias no país. Mesmo tendo governado o Brasil com rigor, e, em muitos casos, sendo obrigado a ceder a interesses das classes dominantes, é inegável que Getúlio Vargas produziu diversas mudanças na estrutura do país, através da criação de leis trabalhistas, das empresas estatais do porte da Petrobrás, CSN, Vale do Rio Doce, e da dinamização das atividades industriais do país."

16) De acordo com o texto é INCORRETO:

- a) O governo brasileiro nas primeiras décadas século XX mantinha a nação sob um regime econômico agro-exportador e com isto a economia sofreu graves oscilações;
- b) O governo de Getulio Vargas produziu mudanças como a criação de leis trabalhistas, a criação de empresas estatais e extinguiu as oligarquias;
- c) A crise das oligarquias foi um passo crucial para a Revolução de 30;
- d) Getulio Vargas chega ao poder em 1930 através de um golpe armado;
- e) As oligarquias de São Paulo perdem o poder.

17) O governo do general Emilio Garrastazu Médici, do ponto de vista político, foi o mais duro dos governos militares. As manifestações contrárias eram consideradas perigosas, muitos cidadãos foram presos e perseguidos, outros mal tratados nas prisões, mortos e muitos outros desapareceram sob a guarda das autoridades brasileiras da época. Além dos fatos já relatados o governo Médici foi responsável também:

- I) Pelo crescimento da economia brasileira conhecida como os anos do “milagre econômico”;
- II) Pelo investimento em grandes projetos como: construção de estradas e hidrelétricas;
- III) Pelo processo de "abertura" política, extinguindo o bipartidarismo;
- IV) Pelo estímulo a exploração da Amazônia e da região Centro-Oeste;
- V) Pela assinatura do acordo para a construção de usinas nucleares no Brasil.

Com relação às afirmações acima, assinale a alternativa CORRETA:

- a) Apenas afirmativa I está correta;
- b) Apenas afirmativa II está correta;
- c) As alternativas III e IV estão corretas;
- d) As alternativas IV e V estão corretas;
- e) As alternativas I, II e IV estão corretas.

Analise os mapas abaixo:

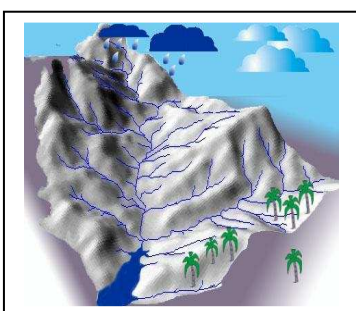


Figura 01

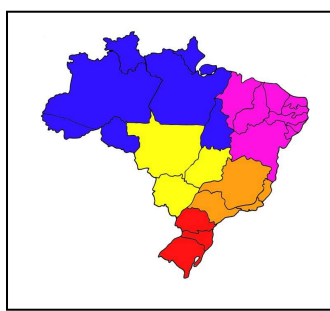


Figura 02

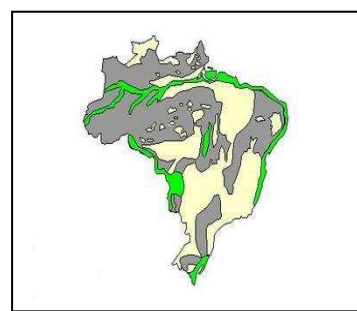


Figura 03

Fonte:

Figura 01: <http://www.caminhodasaguas.ufsc.br>

Figura 02: Blog da Escola Alfa

Figura 03: www.sogeografia.com.br

18) Com relação as figuras dos mapas acima responda CORRETAMENTE:

- I) O mapa 01 representa as rodovias brasileiras;
- II) O mapa 02 representa a divisão do Brasil em regiões de acordo com o clima, relevo, vegetação e a hidrografia;
- III) O mapa 03 representa a hidrografia brasileira;
- IV) O Mapa 01 representa a drenagem do curso das águas na formação das bacias hidrográficas brasileiras e o mapa 03 representa o relevo brasileiro;
- V) O mapa 02 representa as bacias hidrográficas e o mapa 03 o clima brasileiro.

Estão CORRETAS:

- a) As alternativas I e III;
- b) As alternativas I e V;
- c) As alternativas I, II e III;
- d) As Alternativas II, III e IV;
- e) As alternativas II e IV.

19) Santa Catarina, está localizada na região sul do Brasil, com extensão territorial de 95,703,487 mil km² e uma população de 6.149.682 mil habitantes no ano de 2010. Analise as afirmativas abaixo:

- I) É diversificada e equilibrada;
- II) É o sexto estado brasileiro mais rico;
- III) As principais atividades desenvolvidas são: a indústria, agricultura e extrativismo mineral;
- IV) O Estado Catarinense é responsável por 30% da oferta nacional de fruta;
- V) É o maior produtor de cebola e o segundo maior em produção de maçã.

Com relação à economia catarinense é CORRETO afirmar:

- a) Apenas a afirmativa I está correta;
- b) Todas as afirmativas estão corretas;
- c) As afirmativas III e V estão corretas;
- d) As afirmativas II, III e V estão corretas;

e) Todas as afirmativas estão incorretas.

20) Interprete as figuras a seguir:



Figura 01



Figura 02



Figura 03



Figura 04

- I) As figuras representam a responsabilidade sócio ambiental;
- II) As figuras representam o valor que o ser humano dá aos recursos naturais;
- III) As figuras representam a despoluição do planeta;
- IV) As figuras representam a Responsabilidade Social e a Sustentabilidade;
- V) As figuras representam o equilíbrio existente entre a natureza e os seres humanos.

Em relação às figuras e as afirmativas acima é CORRETO afirmar que elas representam:

- a) Apenas a afirmativa I e IV estão corretas;
- b) Apenas a afirmativa I está correta;
- c) Apenas a afirmativa III está correta;
- d) Apenas a afirmativa V está correta;
- e) Nenhuma afirmativa está correta.

QUESTÕES DE RACIOCÍNIO LÓGICO

21) Maria tem 12 (doze) anos de idade e é três vezes mais velha que Joana. Quantos anos terá Maria quando tiver o dobro da idade de Joana?

- a) 18;
- b) 16;
- c) 20;
- d) 22;
- e) 24.

22) Uma aeromoça atende três estudantes. Um tem cabelo claro, outro tem cabelo escuro e, outro, cabelo ruivo. Um dos estudantes tem o nome de Paulo, o outro de Pedro e, o outro de Pablo. Cada um dos estudantes irá para um Estado distinto do Brasil, isto é, um irá para o Rio Grande do Sul, o outro para Santa Catarina e, o outro para o Paraná.

Foi prestado ainda à aeromoça as seguintes informações:

- 1) O estudante de cabelo claro não irá para Santa Catarina nem para o Paraná;
- 2) O estudante de cabelo escuro não se chama Pedro nem Pablo;
- 3) O estudante de cabelo ruivo e o estudante de nome Pedro não irão à Santa Catarina.

Logo, no presente exemplo, pode a aeromoça concluir de forma CORRETA que:

- a) O estudante de cabelo claro tem o nome de Pablo e vai para o Paraná;
- b) O estudante de cabelo ruivo tem o nome de Pablo e vai para Santa Catarina;
- c) O estudante de cabelo ruivo tem o nome de Paulo e vai para o Paraná;
- d) O estudante de cabelo escuro tem o nome de Paulo e vai para o Paraná;
- e) O estudante de cabelo claro tem o nome de Pedro e vai para o Rio Grande do Sul.

23)) Considerando que um conjunto numérico é composto unicamente pelos algarismos 1, 2 e 3, quantos números poderão ser formados sendo admitidos, no máximo, três algarismos em cada número?

- a) 39;
- b) 9;

- c) 18;
- d) 27;
- e) 69;

24) José, Paulo e Sérgio foram ao mercado comprar alimentos para consumo próprio. José possui o dobro de dinheiro do que tem Paulo, e Sérgio possui tanto quanto possuem José e Paulo juntos. Sabendo que os três juntos possuem o total de R\$ 624,00, quanto possui José?

- a) R\$ 104,00;
- b) R\$ 196,00;
- c) R\$ 208,00;
- d) R\$ 216,00;
- e) R\$ 246,00.

25) Uma estante tem 4 prateleiras. A primeira mede $\frac{1}{8}$ da altura da estante. A segunda mede $\frac{1}{4}$ da altura da estante. Neste caso, que fração da estante mede as outras duas prateleiras juntas?

- a) $\frac{3}{7}$;
- b) $\frac{5}{9}$;
- c) $\frac{7}{9}$;
- d) $\frac{5}{8}$;
- e) $\frac{11}{8}$.

QUESTÕES DE CONHECIMENTOS ESPECIFICOS

26) A fragilidade no idoso vem sustentada por seus três pilares: Sarcopenia, Disfunção Imunológica e a deficiência na regulação neuro-endócrina. Com base nestas evidências e frente a um paciente que apresenta certo déficit de equilíbrio e marcha, foram aplicadas determinadas avaliações com seus respectivos resultados a seguir: um AVD de 3 pela escala de Katz, um AIVD de 18 pela escala de Lawton, uma pontuação de 15 para a escala de Tinetti, e um “GET UP AND GO TEST” (teste de levantar e caminhar cronometrados), com duração de 29 segundos. Diante do quadro clínico apresentado, das opções abaixo, qual determina o CORRETO diagnóstico, e qual a melhor orientação para este paciente:

- a) O enunciado refere certo grau de instabilidade postural, mas apresenta as demais avaliações dentro da normalidade, pensando em que o paciente referido na questão ainda é capaz de ter seus auto cuidados a melhor conduta é sem dúvida a indicação de “muletas canadenses”;
- b) Trata- de um idoso saudável, com pouco risco de quedas, e, uma boa conduta, seria a indicação de uma “ortese longa sem bloqueio”, por apresentar instabilidade de marcha e equilíbrio em pequenos episódios e com as AIVD/AVD dentro da normalidade;
- c) Estamos frente a um idoso com grandes riscos de queda e perda de função, pois seus índices de atividades estão muito abaixo do esperado para um idoso saudável, e a indicação ouro a este paciente seria “muletas axilares e indicação de órtese curta” pela apresentação de instabilidade de sua marcha e equilíbrio;
- d) Estamos frente a um idoso com quadro leve de dependência, que apresenta segundo seu AVD/AIVD, possibilidades de auto cuidados, devendo apenas como conduta sugerir o uso de “bengala e indicação de órtese curta”.
- e) Trata- de um idoso dependente e fragilizado, com riscos de quedas (marcha instável e déficit de equilíbrio), e uma boa indicação seria a utilização de um “Andador”.

27) Em seu plantão no Posto de Saúde, vem para consulta uma gestante primigesta, com 36 anos de idade, casada em união estável há 3 anos. Em

sua residência vivem conjuntamente com seus pais adotivos e ambos possuem médios recursos financeiros. Em sua consulta refere sempre ter tido muito cuidado com sua saúde, que tem o hábito de praticar regularmente seus exercícios durante toda sua vida. No entanto, ao realizar o exame físico encontrou-se uma ausculta pulmonar normal, a ausculta cardíaca revelou bulhas rítmicas e normofonéticas com pequenos sopros mitrais (++) , a predomínio sistólico. Apresenta exames complementares onde não consta nenhuma alteração que mereça atenção em especial e conjuntamente apresenta uma ultra-sonografia que confirma sua gestação de 18 semanas. Quais os conceitos que devem ser considerados referentes à ação do profissional fisioterapeuta, quando nos referimos à pacientes gestantes:

a) Realizar um bom exame físico, prestando especial atenção à condição cardio-pulmonar, avaliação do tamanho uterino podendo estimar melhor a idade gestacional, logo então prescrever seu programa de intervenção Fisioterapêutica;

b) Antes de qualquer conduta é de extrema relevância efetuar determinadas avaliações como o tempo do curso gestacional, a avaliação da condição clínica da paciente, logo solicitar a avaliação médica da condição fisiológica com prévia liberação das atividades da paciente, bem como a avaliação detalhada Fisioterapêutica, anteriormente a qualquer intervenção a ser sugerida ou aplicada;

c) Antes de qualquer conduta efetuar a avaliação do tempo de curso gestacional, bem como a avaliação detalhada Fisioterapêutica, logo então prescrever seu programa de intervenção;

d) Antes de qualquer conduta efetuar determinadas avaliações como o tempo do curso gestacional, e principalmente avaliação da condição clínica da paciente, logo então prescrever seu programa de intervenção Fisioterapêutica;

e) Antes de qualquer conduta é de extrema relevância efetuar determinadas avaliações como o tempo do curso gestacional bem como avaliação do tamanho uterino podendo estimar melhor a idade gestacional, e principalmente avaliação da condição clínica da paciente, logo solicitar a avaliação médica da condição fisiológica com prévia liberação das atividades da paciente,

anteriormente a qualquer intervenção a ser sugerida ou aplicada pelo profissional em fisioterapia.

28) Referido a questão anterior (02), quando direcionamos a atenção fisioterapêutica à gestantes, e ao empregar determinadas condutas aos tratamentos devemos tomar em consideração algumas observações imprescindíveis a estas pacientes. Assim sendo, frente à apresentação de lombalgias nestas pacientes em curso gestacional, qual das opções abaixo esta CONTRA INDICADO:

- a) Aplicação de ondas curtas e microondas;
- b) Combinação de infravermelho com aplicações de laser;
- c) Utilização de infravermelho;
- d) Aplicação de laser conjuntamente ao uso de parafina;
- e) Aplicação de sessões de lazer.

29) Considerando os conhecimentos da especialidade em Fisioterapia, das afirmativas abaixo descritas, quais das opções são CORRETAS:

- 1) Dentro da fisiologia muscular normal do ser humano, o equilíbrio posterior do tronco com auxílio da extensão dos joelhos, está favorecido através das cadeias musculares anteriores;
- 2) Referente ao conhecimento da marcha no ser humano, a fase de apoio consiste em 60% do ciclo da marcha, os 40 % restantes a fase de balanço no ciclo da marcha.
- 3) Pela presença cotidiana de estresse nas pessoas, gera uma diminuição de sua qualidade de vida; com um bom acompanhamento pelo profissional em Fisioterapia, e se utilizando da fisioterapia aquática em água aquecida, promove a este paciente conforto e efeito relaxante.
- 4) Nas aplicações das ações fisioterapêuticas, buscando uma melhora clínica reumatológica, podemos afirmar que a eletroterapia além de aliviar a dor, combate o processo inflamatório;
- 5) Em um quadro de paralisia cerebral, com apresentação de quadriplegia espástica moderada, de uma criança com idade cronológica de três anos, e apresentando idade motora de apenas seis meses; podemos considerar que

este paciente possui a reação de Landau, e a posição sentada, é fator ao qual o fisioterapeuta DEVE SE PREOCUPAR:.

- a) 1, 3, 5 são corretas;
- b) 1, 2, 4 são corretas;
- c) 3, 4, 5 são corretas;
- d) 2, 3, 4 são corretas;
- e) 1, 2, 5 são corretas.

30) Frente a um paciente cardiopata conhecido, o acompanhamento fisioterapêutico se faz de extrema necessidade. Pensando em melhorar a qualidade de vida deste paciente sem oferecer maiores riscos a seu quadro clínico, dentro das opções abaixo, qual representa as melhores características de exercício para este paciente?

- a) Indicar a este paciente exercícios físicos isométricos, o qual deverá promover e praticar movimentos que usem os grupos musculares grandes, com exercício aeróbico do tipo caminhadas, corridas e prática de jardinagem;
- b) Promover a educação para a prática de exercícios de forma isotônica e rítmica, buscar usar os grupos musculares pequenos, e orientar o exercício aeróbico tipo caminhadas, corridas ademais de trabalho com pesos;
- c) Promover a educação para a prática de exercícios de forma isotônica, buscar usar os grupos musculares grandes, e praticar exercício aeróbico tipo caminhadas, corridas e ioga;
- d) Indicar a este paciente exercícios físicos isométricos e rítmicos, o qual deverá promover e praticar movimentos que usem os grupos musculares grandes, com exercício aeróbico do tipo bicicleta estacionária, ioga e a prática de jardinagem;
- e) Indicar a este paciente para que tome grande atenção à necessidade de exercícios físicos de forma isotônica e rítmica, que deverá promover baixo sua orientação, usar os grupos musculares grandes, ademais da orientação referente ao o exercício aeróbico do tipo caminhadas, corridas leves e bicicleta estacionária.

31) Em seu plantão de quarta-feira no hospital, se apresenta o Senhor J.C.F. de 36 anos, condutor de caminhão e responsável pela entrega de eletrodomésticos de uma loja de utensílios residenciais e tem por

costume nos finais de semana jogar futebol com seus amigos. Em sua consulta refere que no último final de semana em um jogo com sua equipe de futebol, fez uma lesão no membro inferior esquerdo, lesando o ligamento cruzado anterior. Após 72 horas do traumatismo, apresentava dor de forte intensidade, o que lhe impedia a movimentação deste membro afetado. Por possuir um bom plano de saúde, dirigiu-se a este mesmo hospital, para consulta com o médico especialista em traumatologia e ortopedia, o qual após o diagnóstico realizou uma cirurgia de correção, esperando restabelecer a função ligamentar. O mesmo paciente comentado acima, antes de sair do hospital, recebeu indicação de seu médico para que procurasse um fisioterapeuta e poder continuar com os procedimentos de recuperação dos movimentos a causa do trauma, ao qual foi submetido a cirurgia. Dentre as opções abaixo qual é **CONSIDERADA A MELHOR** conduta imediata neste paciente:

- a) Realizar uma boa avaliação fisioterapêutica, buscando estabelecer um bom diagnóstico para que através deste possa estabelecer qual plano de intervenção será aplicado a este paciente, e logo realizar a contra referência;
- b) Realizar uma intervenção fisioterapêutica, utilizando-se dos procedimentos de isometria e crioterapia, e somente após estes, preencher e realizar a referência deste paciente;
- c) Realizar uma boa avaliação fisioterapêutica, buscando estabelecer um bom diagnóstico para que através deste possa estabelecer qual plano de intervenção será aplicado a este paciente, e logo referir o mesmo;
- d) Normalmente em casos semelhantes a este paciente, como conduta se deve solicitar uma radiografia do membro afetado, preparar e realizar a referência, certificando a correta conduta, para então somente após estes passos realizar o adequado e específico tratamento;
- e) Realizar uma intervenção fisioterapêutica, utilizando-se dos procedimentos de ultrassom com 1MHz, conjuntamente com a isometria e crioterapia, e somente após estes procedimentos. contatar com médico responsável pelo paciente.

32) Na paralisia cerebral qual dos tratamentos descritos abaixo tem melhor indicação:

- a) Lontoforese e fonoforese;
- b) A terapia com laser;
- c) Aplicação de Diatermia;
- d) Utilização de infravermelho;
- e) Phelps e Temple-Fay .

33) Vem à consulta fisioterapêutica a paciente I.V.N. de 40 anos de idade, solteira, paciente muito queixosa. Diz que sua vizinha indicou que deveria consultar com um profissional fisioterapeuta, pois acredita que este poderá auxiliar em sua melhora. Apresenta quadros contínuos de dores musculares em múltiplas localizações de seu corpo, as mesmas vem interferindo em seu sono, gerando fadiga e muitas vezes rigidez acompanhada de cefaléias que se manifestam desde a nuca até os olhos, ademais de referir que no inverno costuma apresentar com maior intensidade as dores musculares. Frente a este quadro clínico descrito, qual das opções abaixo, apresenta a CONDUTA MELHOR aplicada a esta paciente:

- a) Estamos frente a um caso de depressão, deveremos referir a paciente a um especialista em psiquiatria para seu tratamento, e conjuntamente, indicar tratamento fisioterápico através da cinesioterapia, aplicando exercícios passivos, alongamentos musculares bem como reduzir qualquer atividade aeróbica;
- b) Estamos frente a um caso de fibromialgia clássica, que deverá ser certificada pela aplicação dos “Trigger Points” (pontos dolorosos desencadeantes); tão logo possível através da cinesioterapia priorizar a aplicação de forma ativa os exercícios, promover alongamentos orientados e indicar com seguimento, as atividades aeróbicas;
- c) Estamos frente a um caso de artrites, ao qual podemos complementar o diagnóstico através dos exames laboratoriais, e tão logo possível através da cinesioterapia. Aplicar de forma ativa os exercícios, promover relaxamentos musculares e indicar com seguimento, as atividades anaeróbicas;

d) Estamos frente a uma histeria da paciente, não sendo necessário maior diagnóstico, mas pela orientação da vizinha podemos indicar um acompanhamento através da cinesioterapia, promovendo exercícios passivos, alongamentos musculares e atividades anaeróbicas;

e) Estamos frente a um caso de artroses, onde poderíamos certificar o diagnóstico solicitando uma TAC de corpo completo, e tão logo possível através da cinesioterapia aplicar de forma passiva os exercícios, promover encurtamentos musculares e indicar com seguimento, as atividades anaeróbicas.

34) Quando nos referimos às atividades físicas, os exercícios aeróbicos têm como principal característica promover um aumento da força e resistência muscular, principalmente por usar grande quantidade dos grupos musculares em forma rítmica, bem como contribuir para o aumento da eficácia do trabalho cardiopulmonar. Pensando nestes princípios quais os tipos de exercícios que cumprem melhor estas funções e dentre estes quais poderiam ser recomendados:

a) Aplicar exercícios de forma Isométrica e isósceles, recomendando participação de jogos de futebol de campo, ou tênis de campo como o mínimo de 2 horas ao dia;

b) Aplicar exercícios de forma isométrica e isotônicos, recomendando corridas rítmicas a velocidade média e subir grandes quantidades de escada;

c) Aplicar exercícios de forma isométrica, isotônicos e, isocinéticos, recomendando caminhadas em esteiras, andar de bicicleta, ou bem praticar a natação;

d) Aplicar exercícios de forma isotônica e isoinercial; recomendando dança rítmica e musculação, sendo necessário apenas 15 minutos diários e três vezes por semana;

e) Aplicar exercícios de forma isocinética e isósceles, recomendando apenas bicicleta estacionária, 1 hora por dia e 2 vezes na semana.

35) Dentre os procedimentos aplicados na área de Fisioterapia, e relacionados às necessidades das diversas patologias encontradas em

crianças menores, qual das opções descritas abaixo encontra-se INCORRETA:

a) Frente ao quadro de DPOC ou outras patologias respiratórias, tanto a expiração forçada bem como a tosse produtiva, são dependentes da ação dos músculos abdominais (MA), pois auxiliam o músculo diafragma, além de estabilizar as costelas inferiores, ambos (MA) são supridos pelos nervos espinhais de T6-T12;

b) Frente a um quadro de pneumotórax, é possível promover um aumento da absorção de nitrogênio através da oxigenioterapia, contribuindo para uma mais rápida melhora e resolução do quadro;

c) O enfisema pulmonar é claro e fácil de ser diagnosticado frente a uma imagem radiológica que apresenta condensação pulmonar do tipo retrátil;

d) Um paciente com DPOC em determinado momento apresenta uma acidose respiratória, e em outro momento, uma alcalose metabólica. Em ambas situações podemos afirmar que existe uma elevação do gás carbônico (CO₂);

e) Na apresentação clínica de um determinado paciente, constituindo um quadro que se apresenta de forma crônica, com tosse produtiva e expectoração muco purulenta, presente em episódios de três meses ao ano, por dois anos consecutivos pode ser definida como Bronquite Crônica.

36) Qual das doenças abaixo é mais característica do quadro a seguir: desordem neurodegenerativa cerebral, progressiva, irreversível, apresentando um distúrbio comportamental restrito, que apresenta um curso fatal, mas normalmente a morte não tem relação com a doença, tem incidência aumentada em 5% aos 65 anos e de 90% aos 95 anos, pode evoluir entre dois a 20 anos, é mais predominante do sexo feminino:

a) Doença de Parkinson;

b) Coréia de Biswanger;

c) Demência Vascular;

d) Doença de Biswanger;

e) Doença de Alzheimer;

37) Pacientes que permanecem acamados por períodos longos, normalmente em patologias crônicas ou incapacitantes, devem receber

uma maior atenção quanto a prevenção das úlceras de decúbito. Referente a esta patologia, quais são os locais mais comumente propensos a estas lesões e qual procedimento pode ser realizado para prevenir as mesmas:

- a) Os locais comumente afetados são a coluna lombar, trocanteres, tornozelo e coluna cervical. Assim sendo, nestes locais a aplicação de eletroterapia, gera bons resultados promovendo a prevenção das mesmas;
- b) Os locais comumente afetados são a escápula, tornozelos, coluna cervical, trocanteres e ísquio. E posicionamento anatômico dos membros, já é suficiente para promover a prevenção das mesmas;
- c) Os locais comumente afetados são a escápula, tornozelos, coluna dorsal, trocanteres, e ísquio. Uma boa hidratação como a ingestão de quatro litros de água em 24 horas são suficientes para promover a prevenção das mesmas;
- d) Os locais comumente afetados são a escápula, tornozelos, sacro, trocanteres, e ísquio. E a simples mudança de decúbito em horários alternados é possível promover a prevenção das mesmas;
- e) Os locais comumente afetados são a panturrilha, sacro, escápula, coluna dorsal, trocanteres, e ísquio. Aplicações de gel hidratante através de massagem, é suficiente para promover a prevenção das mesmas;

38) Em um procedimento realizado pelo fisioterapeuta, onde o paciente após visão anterior do observador, permanece de costas em frente ao profissional de saúde, na posição de pé, com os braços ao longo do corpo e os pés em posição natural, logo solicita ao paciente que realize uma inclinação de seu corpo para frente, mantendo sua observação ao nível das vértebras (Teste de Adam). Das opções abaixo, o que estava buscando diagnosticar este profissional:

- a) Escoliose, geradora de alterações genéticas de membros inferiores;
- b) Diagnosticar as causas de Hiperlordose Lombar;
- c) Presença do Ângulo de Cobb que descaracteriza a escoliose toracodorsa;
- d) Escoliose, observando possíveis elevações desproporcionais no tronco.
- e) Cifose torácica de origem idiopática gerada através do tabagismo crônico.

39) Um recém nascido (RN), com idade gestacional de 36 semanas, ao nascimento apresentou-se com a síndrome da aspiração meconial. Nele foi realizada, de forma correta, as manobras de higiene brônquica. Pela sua estrutura funcional desfavorável em relação ao de um bebê ao término, adquiriu uma determinada doença respiratória. Em relação ao procedimento realizado ao nascimento do RN e sobre as características pulmonares do mesmo, é INCORRETO afirmar:

- a) Os bebês prematuros possuem os alvéolos ainda em curso de formação, sendo que em número estes se encontram igual aos dos bebês de término, o qual não seria necessário este tipo de procedimento e sim apenas o emprego da membrana de oxigenação extra-corpórea;
- b) O procedimento foi realizado corretamente, pois tão logo termine o período expulsivo a respiração torna-se com predomínio nasal;
- c) O procedimento está correto, pois contribui para melhorar a deficiência ventilatória colateral alveolar;
- d) O procedimento foi muito bem aplicado, pois bebês prematuros possuem seus níveis de surfactante alveolar reduzidos;
- e) Também pela dificuldade que encontra o diafragma a princípio e, por possuir poucas fibras que ofereçam maior resistência acessória à respiração, o procedimento foi realizado corretamente.

40) O que podemos considerar como uma alternativa CORRETA, quando empregamos a reabilitação em pacientes com disfunções neurológicas crônicas:

- a) Promover uma melhor interação, mantendo o grau de dependência do paciente;
- b) Não aplicar atenção domiciliar, pois todos os pacientes já possuem seus cuidadores habilitados aos cuidados necessários do paciente;
- c) Por se tratar de pacientes com disfunções neurológicas, não é necessário uma efetiva monitoração de seu progresso, pois em todas as hipóteses ele será sempre portador de doença neurológica;
- d) Manter uma conduta particular de cada profissional fisioterapeuta, pois os protocolos não se aplicam a todos os pacientes, gerando em alguns, impressões desfavoráveis de aproximação.

e) As alternativas mencionadas acima (A – B – C - D), não correspondem a uma conduta que deva ser realizada por um profissional fisioterapeuta.

CARTÃO DE RESPOSTA
PROVA CONCURSO PÚBLICO Nº 01/2011
CARGO DE FISIOTERAPEUTA

	A	B	C	D	E
01					
02					
03					
04					
05					
06					
07					
08					
09					
10					
11					
12					
13					
14					
15					
16					
17					
18					
19					
20					

	A	B	C	D	E
21					
22					
23					
24					
25					
26					
27					
28					
29					
30					
31					
32					
33					
34					
35					
36					
37					
38					
39					
40					

ASSINATURA DO (A) CANDIDATO (A)

INSCRIÇÃO

NOME DO (A) CANDIDATO (A)

LOCAL E DATA